

10 класс

Тестовые задания

1. В какой из стран проживают эльзасцы

- а) Франция
- б) Испания
- в) Бельгия
- г) Италия
- д) Великобритания

2. По форме государственного правления Австрия

- а) конституционная монархия
- б) парламентская республика
- в) президентская республика
- г) абсолютная монархия
- д) государство в составе Британского Содружества наций

3. По форме административно-территориального устройства Бельгия

- а) унитарное государство
- б) унитарное государство с элементами федерализма
- в) конфедеративное государство
- г) федеративное государство
- д) парламентская республика

4. Какая из названных стран зарубежной Европы имеет самую высокую численность населения

- а) Франция
- б) Испания
- в) Великобритания
- г) Италия
- д) Польша

5. Какие из перечисленных стран являются унитарными президентскими республиками

- а) Франция
- б) Германия
- в) Швеция
- г) Великобритания
- д) Италия

6. Какие из перечисленных стран являются федеративными конституционными монархиями

- а) Нидерланды
- б) Люксембург
- в) Греция
- г) Бельгия
- д) Финляндия

7. Какие из названных пар европейских государств имеют монархическую форму государственного правления

- а) Норвегия и Болгария*
- б) Бельгия и Финляндия*
- в) Нидерланды и Греция*
- г) Швеция и Италия*
- д) Испания и Монако*

8. Какие из перечисленных европейских стран не являются членами Европейского союза

- а) Ирландия*
- б) Норвегия*
- в) Швеция*
- д) Греция*
- е) Болгария*

9. Какие из перечисленных стран не входят в НАТО

- а) Норвегия*
- б) Польша*
- в) Швеция*
- г) Румыния*
- д) Турция*

10. Какие из названных европейских государств имеют монархическую форму государственного правления

- а) Люксембург и Сан-Марино*
- б) Испания и Лихтенштейн*
- в) Швеция и Финляндия*
- г) Андорра и Португалия*
- д) Нидерланды и Бельгия*

11. Определите страну, граничащую по суше с пятью государствами; численность населения в каждом из пограничных государств меньше, чем в этой стране

1.Россия, 2 Украина, 3 Польша, 4.Узбекистан, 5.Монголии, 6 Китай.

12. В какой из стран столица является крупнейшим городом своей страны:

1. Бразилия 2. Австралия 3. Пакистан 4. США 5. Индия 6. Индонезия 7. Турция

13. Такие территории как Аляска (США), Кабинда (Ангола), Мусандам (Оман) с географической точки зрения являются

- а) заморскими территориями*
- б) полуэксклавами*

- в) поляризованными пространствами
- г) геодетерминантами
- д) субпассионариями

14. Население какой страны меньше 100 млн. чел.?

- А) Пакистан
- Б) Германия
- В) Япония
- Г) Нигерия
- Д) Бангладеш

15. Форма административно-территориального устройства, при которой в составе государства нет самоуправляющихся государственных образований, называется:

- А) федерацией
- Б) доминионом
- В) самоопределившимся государством
- Г) унитарным государством
- Д) квази-государством

16. Гигантское скопление агломераций и городов, слившихся друг с другом:

- А) мегалополис
- Б) техногенный ландшафт
- В) ойкумена
- Г) субурбанизация
- Д) униатство

17. Так называется произвольная демаркация избирательных округов с целью искусственного изменения соотношения политических сил в них. Она нарушает равенство избирательных прав граждан (принцип равного представительства: равное количество депутатов от равного количества избирателей).

О чем идет речь?

1. Джерримендеринг, 2. Избирательная «карусель», 3. Геодетерминизм, 4. Электоральный раскол, 5. Акклюзия.

18. Экономический казус из-за которого Панама по тоннажу морского флота превосходит Японию и США называется

- А) "дешевый дедвейт"
- Б) "удобный флаг"
- В) "эффект Панамского канала"
- Г) "заниженная ватерлиния"
- Д) "теплый гальян"

19. Международная экономическая организация развитых стран, признающих принципы представительной демократии и свободной рыночной экономики (расшифруйте аббревиатуру):

- А) ВВП
- Б) ОПЕК
- В) ТНК
- Г) ВТО
- Д) ОЭСР

20. Теория пассионарности Л.Н. Гумилева объясняет процессы

- А) мутагенеза
- Б) этногенеза
- В) расогенеза
- Г) дрейфа материков
- Д) энерго-производственных циклов

Теоретические задания

Задание 1.

Эта страна до 1919 г. была крупной метрополией, колониями которой были такие современные государства как Танзания (Танганьика), Намибия, Камерун, Того, а также северная часть Папуа-Новой Гвинеи.

По государственному устройству является федеративным государством в составе 16 административно-территориальных единиц, из которых 3 являются городами.

Это государство омывается 2 морями и граничит с 9-ю государствами.

Несмотря на то, что это моноэтническое государство (92% населения принадлежит к одной нации) в современной структуре населения очень заметную долю составляют мигранты, а самое многочисленное этническое меньшинство – лужичане.

Наряду с официальным языком, население использует 10 региональных и более 50 локальных диалектов, таким образом, жители северных регионов страны не всегда в полной мере понимают своих южан, если они не общаются между собой на литературном («высоком») языке.

Среди отраслей сельского хозяйства особое место занимает виноградарство. При этом один из самых любимых народных праздников (который проходит ежегодно в октябре или в конце сентября) посвящен не вину, а другому алкогольному напитку.

Назовите: Столицу государства. 3 города, являющиеся административными единицами. Страны-соседи. Народный фестиваль, о котором идет речь в вопросе.

Задание 2.

Ватикан – самая известная, но не единственная теократическая монархия. Принято выделять как минимум еще два государства, подпадающие под это определение. В одном из них хранится святыня религии, представляющая собой черный метеоритный камень. Человек, который, хоть однажды совершивший паломничество к этой святыне навсегда получает почетную приставку к своей













фамилии. Удивительным географическим фактом об этой стране является то, что точно не известна площадь ее территории, хотя считается, что по этому показателю страна занимает 13 место в мире.

Назовите: Столицу государства. Город, в котором хранится святыня. Приставку к фамилии за совершенное паломничество. Причину по которой не известна точная площадь государства. Третью страну, считающуюся теократической монархией

Задание 3.

Крупяные культуры, это растения, дающие зерно, используемое в основном для приготовления крупы. Большинство крупяных культур относятся к одному семейству. Но есть и исключения. Ниже приведены фотографии крупяных культур и крупы, которая из них производится.

Назовите семейство, которое объединяет большинство крупяных культур. Установите соответствие: крупяная культура – крупа. Укажите культуру и крупу, которые не относятся к вышеназванному семейству..

1			4		
2			5		
3			6		

Укажите страны, ведущих производителей этих крупяных культур

Задание 4.

В сентябре в одной из новгородских газет под рубрикой «Будни села» была напечатана такая статья обозревателя И. В. Васильева: «Только что закончилась уборка озимых хлебов. Они в этом году удались как никогда, особенно пшеница, ведь еще с весны поля были подготовлены под орошение. В передовом молочно-животноводческом хозяйстве «Звезда» надои молока достигли рекордной отметки. А вот урожай основной технической культуры – сахарной свеклы, как и картофеля, в этом году, к сожалению, небольшой. Зато высок урожай подсолнечника».

За эту публикацию журналист получил выговор от начальства. Объясните почему.

Задание 5.

С древних времен человек стремился к изучению окружающего мира – как территории своего обитания, так и дальних стран. Результаты этих исследований фиксировались на географических картах. Путь познания был долгим и нелегким, поэтому, наряду с действительными сведениями, на картах находили отражения и ошибочные представления. Это объяснялось несовершенством методов исследования, использованием при создании карт не достоверных сведений, включая мифы и легенды, и просто ошибками в трактовке имеющихся данных. Среди таких картографических ошибок были: Лукоморье, Эльдorado, Шамбала.

Укажите происхождение каждого из названий и что оно обозначает. Где на картах были отмечены эти территории. Какая из территорий, согласно старославянским летописям, имела реальное место существования. Кто проживал на этих землях.

Задание 6.

Определите, какому населенному пункту Курской области соответствует данный герб, что обозначают символы, представленные на гербе.

Данный город образован в 1779 году на месте одноименного села. Располагается на реке, которая впадает в самый большой приток Сейма. Население составляет 5994 чел. (2016). Этот небольшой город известен не только в нашей стране, но и за рубежом т.к. является родиной человека прославившего Курский край.

Назовите основные предприятия города и района. Какую дополнительную информацию вы можете сообщить о данном населенном пункте?

Ответы

Тестовые задания

1	а	б	г	11	4	16	а
2	б	7	д	12	б	17	1
3	г	8	б	13	б	18	б
4	а	9	в	14	б	19	д
5	а	10	бд	15	г	20	б

Теоретические задания

Задание 1.

Берлин

Берлин, Гамбург, Бремен

Граничит с Данией на севере, Польшей и Чехией на востоке, Австрией и Швейцарией на юге, Францией, Люксембургом, Бельгией и Нидерландами на западе

Октоберфест (фестиваль пива)

Задание 2.

Эр-Рияд

Мекка

Хаджи (пример: Хаджи-Мурат, Хаджи(а)-Насреддин)

Граница проходит по безлюдной пустыне и частично оспаривается соседями – юридически часть границы не закреплена.

Бруней

Задание 3.

Семейство – Зерновые.

1. просо – пшено; ячмень – перловка; пшеница – манка; дагусса – дагусса; магар – магар; гречиха – гречка.

Гречиха семейства гречишных

1. – Китай, страны Африки, Ураина, 2 – Россия, страны Европы, Азии и Африки, 3 – Китай, Индия, США, Франция, Россия, 4 - в районах Северной Африки и Индии, 5. Страны Азии в субтропическом и тропическом климате; 6 – Россия, Украина.

Задание 4.

Земли Новгородской области, скорее, могут быть подвергнуты осушению, чем орошению. Пшеница здесь почти не выращивается. Наверное, журналист перепутал ее с рожью или ячменем (хотя он яровой) — главными зерновыми культурами Новгородчины. По агроклиматическим условиям сахарная свекла не может являться основной технической культурой области, так как до сахарной спелости она не дойдет, а на корм выгоднее выращивать травы. Подсолнечник в данной области не может давать высокий урожай, т.к. ему нужны теплые и сухие условия.

Задание 5

Лукоморье упоминается в фольклоре восточных славян. Это заповедное северное царство на краю мира, где люди впадают в зимнюю спячку и просыпаются с первыми лучами весеннего солнца. Там находится Мировое древо («У Лукоморья дуб зеленый»), по которому, если идти вверх, можно попасть на небо, если вниз — в подземное царство. Лукоморье изображено на многих старинных западноевропейских картах: это территория, прилегающая к восточному берегу Обской губы, в районе современной Томской области.

«Лукоморье» в старославянском языке означает «изгиб морского берега», и в древнерусских летописях этот топоним упоминается не на Крайнем Севере, а в районе Азовского и Черного морей и низовьев Днепра. Лукоморье — одно из мест обитания половцев, которые иногда так и назывались — «лукоморцы».

Шамбала – мифическая страна из индуизма и буддизма. Сказочный край обещает сказочные условия – подарить вечную юность, открыть все знания мира. «Если вы знаете учение Шамбалы, вы знаете будущее». Традиционно, вход в Шамбалу помещают в район горного Тибета, где-то вблизи священной горы Кайлас. Одни из ворот Шамбалы расположены на Алтае, в районе горы Белухи – священной вершины у местных алтайских народов.

Эльдорадо (*исп. el dorado*, буквально — *золочёный, золотой*) мифическая южноамериканская страна, богатая золотом и драгоценностями, которую испанские завоеватели искали в 16—17 вв. в Южной Америке (в основном в бассейне рр. Ориноко и Амазонки). Легенда и название страны восходят к существовавшему у местных народов обычаю посвящения в правители на оз. Гуатавита (Колумбия). Согласно легенде, правитель Эльдорадо каждое утро обсыпался золотым песком и смывал его в водах священного озера. В переносном смысле Эльдорадо — страна сказочных богатств.

Задание 6.

Город Фатеж, герб города означает, что жители – воины, занимающиеся в свободное время хлебопашеством, и поэтому в гербе с военное орудие соединено с орудиями хлебопашца.

Город расположен на р. Усожа, которая является притоком Свапы. Здесь родился знаменитый композитор Г.В. Свиридов

Предприятия: Завод по производству мясокостной муки, пищекомбинат, Комбинат детского питания, филиал компании «Вимм-Билль-Данн» .

Критерии оценки

Тестовые задания.

1 задание - 1 балл.

Всего за тестовые задания – 20 баллов

Теоретические задания

Задание 1

Названы правильно: столица государства – 2б., 3 города, являющиеся административными единицами – по 2 б. за каждый. Страны-соседи – по 1б. Указание, в каком месте страна граничит с группой других государств – добавляется еще по 1 баллу. Народный фестиваль – 3 б.

Всего – 24 балла.

Задание 2.

Названы правильно: столица государства – 2б., город, в котором хранится святыня 3 б. за каждый. Приставку к фамилии за совершенное паломничество – 3б. Названа причина по которой не известна точная площадь государства – 3б. Названа третья страна которую считают теократической монархией – 3 б.

Всего – 14 балла.

Задание 3.

Названо семейство, которое объединяет большинство крупяных культур. – 2б. Установите соответствие: крупяная культура – крупа. – по 2 б за каждую крупяную культуры. Названа культура и крупа, которые не относятся к вышеназванному семейству – 1 б... Указаны страны, ведущие производители вышеназванных крупяных культур – по 1 б. за правильное указание стран и регионов для каждой культуры.

Всего 21 балл

Задание 4.

За каждую верно исправленную ошибку по 2 балла: (не орошение, а осушение – 2 балла, главными зерновыми культурами являются рожь и ячмень (яровой) – 2 балла, сахарная свекла не может являться основной технической культурой области – 2 балла, на корм выгоднее выращивать травы – 2 балла, подсолнечник в данной области не может давать высокий урожай - 2 балла)

Общая сумма – 10 баллов.

Задание 5.

Дано объяснение происхождения названия страны – по 4 балла за каждое. Указано место на карте, где данная страна была обозначена – 4 балла за каждое. Названо Лукоморье, как термин, обозначающий изгиб морского берега в районе Азовского и Черного морей и низовьев Днепра – 3 балла. Названы половцы (и их местное название «лукоморцы») как народ, проживающий в лукоморье – 4 балла.

Всего – 15 баллов.

Задание 6.

Назван город - 2 б. Дается обозначение символов - 4б. Названы реки – по 1б. за каждую. Назван известный человек - 2б. Названы предприятия - 1 б. за каждое. Сообщены дополнительные сведения - до 2б.

Всего - 16 баллов

Всего баллов за теоретический тур – 100 баллов

Общая сумма баллов - 120 баллов